

Parcours 3 – LE NIGERIA

La Nigéria, le défi d'une explosion démographique dans un pays en développement

FICHE D'IDENTITÉ DU NIGERIA

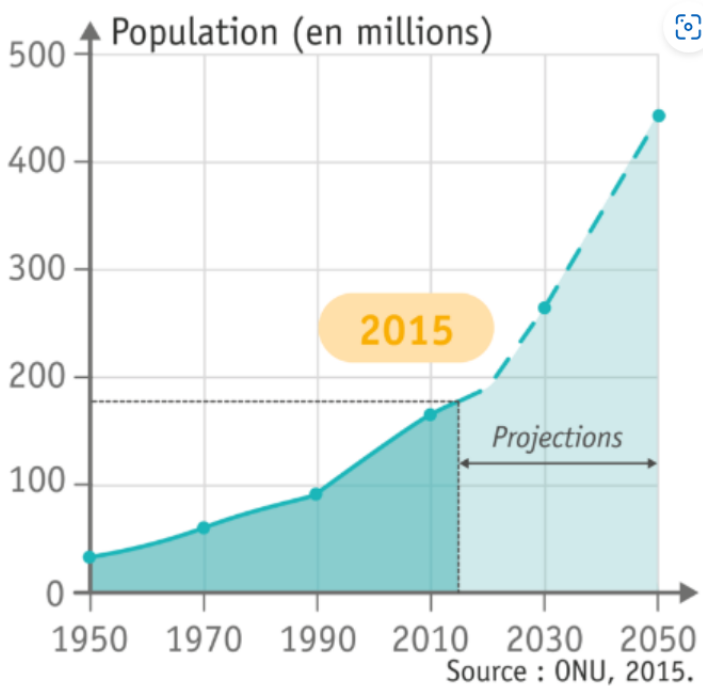
Population	183 millions d'hab.
Superficie	924 000 km ²
PIB/hab	5 877 \$ par hab.



Pays en développement : pays dont le manque de richesse permet très difficilement de satisfaire les besoins essentiels de la population (alimentation, accès à l'eau, logement, éducation, santé...) et qui est marqué par de très fortes inégalités.

Doc. 1. Evolution de la population du Nigéria

(source : Lelivrescoalire.fr)

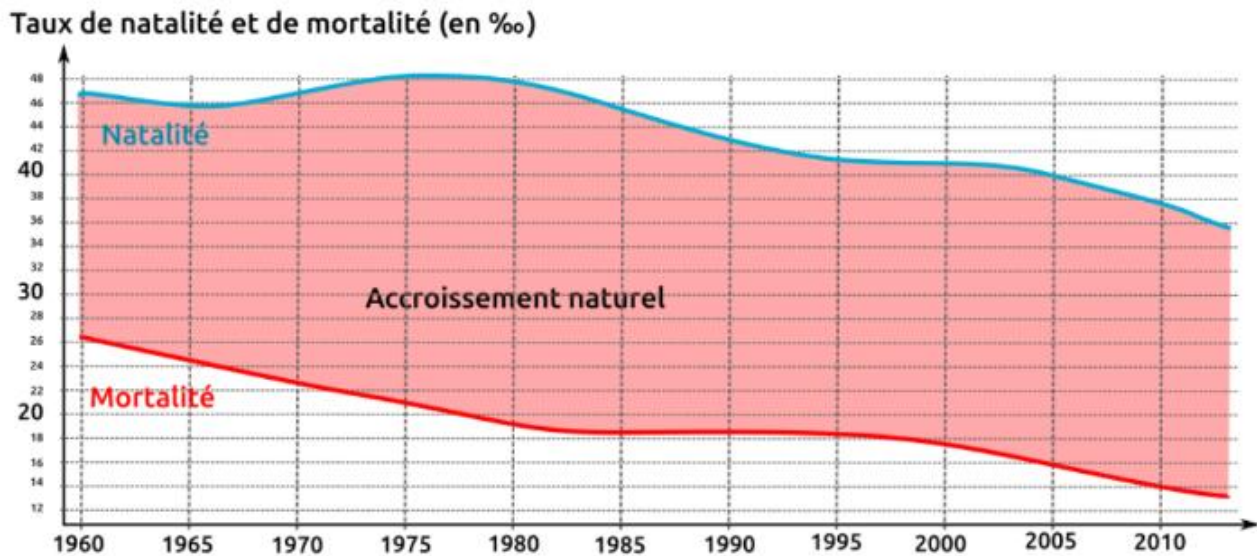


1. Doc.1. a - Comment a évolué la population du Nigéria entre 1950 et 21015 ? Justifie ta réponse à l'aide de chiffres.

.....

.....

Doc. 2 Evolution des taux de natalité et de mortalité (source : hgsempai.fr)



Taux de natalité : nombre de naissance pour 1000 personnes

Taux de mortalité : nombre de décès pour 1000 personnes

2. Doc. 2 - Explique l'évolution de la population en observant les courbes des taux de natalité et de mortalité.

Doc. 3 – Le contrôle de la fécondité¹ (source : manuel Hachette, 5^e)

Jusqu'à 50 personnes partagent une cuisine, des toilettes et un évier bien que les canalisations du quartier soient souvent à sec. A l'école primaire de Alapere, plus de 100 élèves se serrent dans les salles de classe, avec deux élèves par bureau. Alors que les lycées et les universités produisent toujours plus de diplômés, le taux de chômage du Nigéria avoisine les 50% pour les jeunes âgés de 15 à 24 dans les zones urbaines. En Afrique subsaharienne², les gouvernements paniqués ont commencé à prendre des mesures pour réduire la natalité. Le Nigéria a mis en place la gratuité des contraceptifs³ l'année dernière et le gouvernement fait la promotion de « petites » familles présentées comme la clé de croissance économique.

D'après Elisabeth Rosenthal, « Le contrôle de la fécondité au Nigéria »,

New York Times, 1^{er} avril 2012

¹ Fécondité : nombre d'enfant par femme

² Région de l'Afrique située entre le sud du Sahara et le nord de l'Afrique du Sud

³ Moyens qui permettent à la femme de ne pas tomber enceinte comme le préservatif ou la pilule

3. Doc.2 -Souligne en rouge deux extraits du texte qui montrent que le nombre de jeunes est important au Nigéria.

4. Doc. 3 – En citant le texte, montre que le gouvernement du Nigéria a pris des mesures pour diminuer la natalité.

.....

.....

.....

.....

Doc. 4 – La croissance démographique : un frein au développement¹ ? (source : manuel Hachette, 5^e)

La très forte croissance démographique est-elle un atout pour sortir du sous-développement ou une bombe à retardement ? La question est régulièrement posée au Nigéria où 70% de la population vit avec moins d'un dollar par jour. Selon une récente étude de l'ONU, au moins 50 millions de jeunes sont actuellement sous employés ou sans travail. Et les observateurs estiment qu'à long terme il y a un risque qu'ils s'orientent vers le banditisme ou l'extrémisme religieux [...].

Cependant, les indicateurs économiques sont favorables mais il faut que les autorités investissent dans la formation pour faire des 250 millions nigériens de la prochaine génération les travailleurs et les consommateurs de demain.

D'après www.rfi.fr, « En 2050, le Nigéria sera le troisième pays le plus peuplé au monde »,
20 septembre 2015,

¹ **Développement** : amélioration des conditions de vie des habitants grâce à l'augmentation des richesses (plus de revenus) ce qui permet de satisfaire les besoins essentiels (alimentation, santé, éducation, transports).

² Freiner

³ Annonce

5. Doc. 4 – En citant le texte, montre que la population du Nigéria est très pauvre.

.....

.....

6. Doc. 4 – En citant le texte, montre que les jeunes sont très fortement touchés par le manque de travail.

.....
.....

7. Doc. 4 – Que doit développer le Nigéria pour que la prochaine génération soit un atout et non pas une bombe à retardement ?

.....
.....

Doc. 5 – Des difficultés à nourrir la population (source : manuel Hachette, 5^e)

Le Nigéria est le premier producteur mondial de manioc. Mais sa production ne suffit pas à couvrir les besoins alimentaires des Nigériens.

Je cultive le manioc sur deux hectares et sur le reste, je plante d'autres variétés de légumes. Je pourrais largement produire si je disposais de moyens techniques modernes. Si j'en avais les moyens, je m'équiperai mieux. J'achèterai un tracteur et le travail serait plus facile pour moi. Et puis ce qui me manque ce sont des fertilisants². Des engrais me permettraient d'avoir une meilleure récolte.

D'après le témoignage d'Adé, un paysan nigérien recueilli par RFI
2015,

¹ **Développement** : amélioration des conditions de vie des habitants grâce à l'augmentation des richesses (plus de revenus) ce qui permet de satisfaire les besoins essentiels (alimentation, santé, éducation, transports).

² Produits chimiques comme les engrais qui permettent de produire en plus grande quantité


8. Doc. 5 – A quelle condition Adé, le paysan nigérien, pourrait-il produire plus ? Développe ta réponse en citant le texte.

.....
.....
.....
.....
.....
.....

Doc. 6- Un bidonville à Lagos

Lagos, 25 millions d'habitants, est l'agglomération la plus peuplée et la capitale économique du Nigéria.

Bidonville : quartier pauvre dont les logements ont été construits par les habitants, sans autorisation et avec des matériaux de récupération



9. Doc. 4 – Décris l'image en séparant chacun des plans.

Au premier plan, je vois

.....
.....
.....
.....
.....
.....

Au deuxième plan, je vois

.....
.....
.....
.....
.....
.....

10. Doc. 2 à 6. Complète le tableau ci-dessous à l'aide des documents.

Document	Défi à relever face à la croissance démographique
Document 2	
Document 3	
Document 4	
Document 5	
Document 6	